



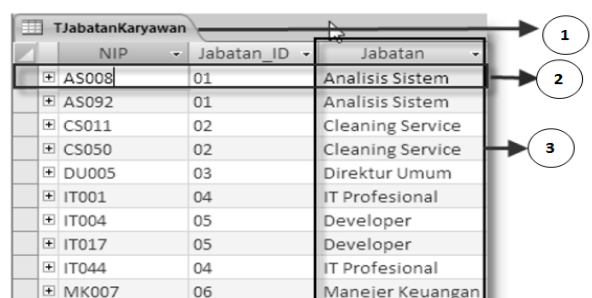


- Pernyataan dibawah ini yang merupakan definisi dari database adalah
 - kumpulan data yang berhubungan dengan suatu objek atau tujuan khusus tertentu
 - kumpulan data yang dibuat dalam tabel-tabel pada suatu aplikasi
 - kumpulan data yang digunakan sebagai database pemrograman
 - kumpulan data untuk membuat tabel laporan
- Aplikasi dibawah ini yang merupakan aplikasi untuk pembuatan database adalah ...
 - microsoft Word
 - microsoft Access
 - microsoft Excel
 - microsoft Frontpage
- Icon yang menunjukkan aplikasi microsoft access 2007 adalah ...
 - 
 - 
 - 
 - 
- Ekstensi file dari aplikasi database berbasis Microsoft adalah ...
 - xls dan xlsx
 - doc dan docx
 - mdb dan accdb
 - acc dan accx
- Objek atau menu dasar yang digunakan dalam pembuatan database microsoft acces adalah ...
 - table, field, record dan form
 - database, table, access, report
 - table, field, form dan report
 - table, query, form dan report
- Objek untuk memasukkan dan mengubah data/informasi yang ada di dalam suatu database dengan menggunakan tampilan formulir disebut
 - table
 - query
 - form
 - report
- Objek yang merupakan tempat atau sarana untuk penyimpanan data pada microsoft acces disebut
 - table
 - query
 - form
 - report
- Objek untuk menampilkan, mencetak data atau informasi dalam bentuk laporan pada aplikasi database disebut
 - table
 - query
 - form
 - report
- Objek pada Microsoft access digunakan untuk menyaring data dengan berbagai kriteria dan urutan yang diinginkan disebut
 - table
 - query
 - form
 - report

Gambar di bawah ini untuk menjawab soal No. 9 - 11

- Bagian pada gambar yang ditunjukkan dengan angka 1 disebut ...

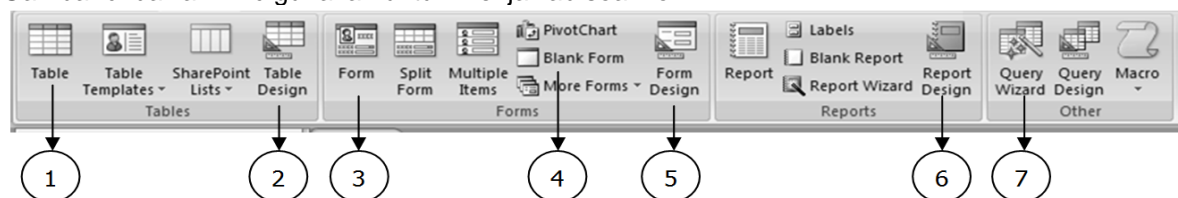
- table name
- record
- field
- form



NIP	Jabatan_ID	Jabatan
AS008	01	Analisis Sistem
AS092	01	Analisis Sistem
CS011	02	Cleaning Service
CS050	02	Cleaning Service
DU005	03	Direktur Umum
IT001	04	IT Profesional
IT004	05	Developer
IT017	05	Developer
IT044	04	IT Profesional
MK007	06	Manejer Keuangan

11. Bagian pada gambar yang ditunjukkan dengan angka 2 disebut ...
 - A. record
 - B. field
 - C. form
 - D. database
12. Bagian pada gambar yang ditunjukkan dengan angka 3 disebut ...
 - A. record
 - B. field
 - C. form
 - D. database
13. Hal-hal berikut yang harus diperhatikan dalam pembuatan tabel database adalah ...
 - A. Jenis tabel dan jenis form
 - B. Nama field dan type data
 - C. Jenis form dan jenis report
 - D. Nama field dan nama form
14. Type data dalam database yang memperbolehkan input berupa huruf, angka, symbol, spasi dan tanda baca sampai 255 karakter adalah ...
 - A. Memo
 - B. Number
 - C. Date/time
 - D. Text
15. Type data yang cocok untuk mengisi field dengan nomor urut otomatis untuk masing-masing record adalah ...
 - A. Number
 - B. Auto Number
 - C. Look Up Wizard
 - D. Text
16. Type data yang digunakan untuk input data yang berjenis angka dengan format mata uang adalah ...
 - A. Number
 - B. Auto Number
 - C. Currency
 - D. Memo
17. Type data untuk memasukkan teks yang panjang dengan keperluan memberikan keterangan/ catatan dengan jumlah maksimum 64.000 karakter adalah ...
 - A. Number
 - B. Auto Number
 - C. Currency
 - D. Memo
18. Pembuatan pilihan "Pria atau Wanita" pada database, maka type data yang digunakan adalah ...
 - A. Number
 - B. Auto Number
 - C. Lookup Wizard
 - D. Text

Gambar di bawah ini digunakan untuk menjawab soal no.



19. Menu yang harus di pilih untuk mengaktifkan toolbar seperti gambar di atas adalah ...
 - A. home
 - B. create
 - C. database tools
 - D. data sheet
20. Icon yang harus diklik untuk pembuatan tabel database baru ditunjukkan pada nomor ...
 - A. 1
 - B. 2
 - C. 3
 - D. 4
21. Icon yang harus diaktifkan untuk pembuatan tampilan input data berbentuk formulir adalah ...
 - A. 1
 - B. 3

- C. 6
- D. 7

22. Icon yang harus dipilih untuk membuat rancangan laporan ditunjukkan dengan nomor ...

- A. 4
- B. 5
- C. 6
- D. 7

23. Icon yang harus dipilih untuk pembuatan relasi antar tabel ditunjukkan pada nomor ...

- A. 4
- B. 5
- C. 6
- D. 7

24. Nomor icon yang harus dipilih untuk membuat input formulir database baru adalah ...

- A. 1
- B. 2
- C. 3
- D. 4

25. Nomor icon yang harus dipilih untuk memecah formulir sehingga menjadi dua formulir yang berbeda adalah ...

- A. 4
- B. 3
- C. 2
- D. 1

26. Nomor icon yang harus dipilih untuk membuat grafik berdasarkan suatu database adalah ...

- A. 3
- B. 4
- C. 5
- D. 6

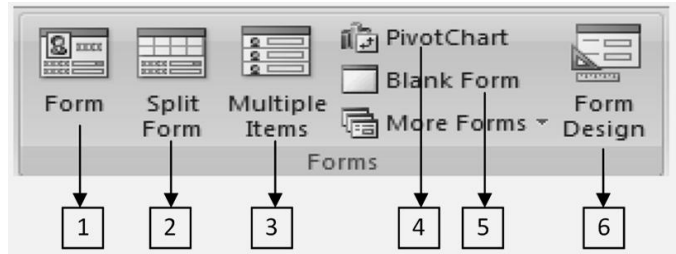
27. Nomor icon yang harus dipilih untuk membuat formulir yang kosong sehingga user bisa mendesain sendiri suatu formulir yang diinginkan adalah ...

- A. 2
- B. 3
- C. 4
- D. 5

28. Nomor icon yang harus dipilih untuk mendesain form sesuai dengan keinginan user adalah ...

- A. 1
- B. 3
- C. 5
- D. 6

Gambar dibawah ini untuk menjawab soal no. 24 - 28



Gambar dibawah ini untuk menjawab soal No. 28 - 32

29. Fungsi icon yang ditunjukkan dengan angka 1 adalah ...

- A. membuat tombol pada form
- B. menambah keterangan dari sebuah form
- C. menambah pilihan baru
- D. membuat logo form

30. Fungsi icon yang ditunjukkan dengan angka 2 adalah ...

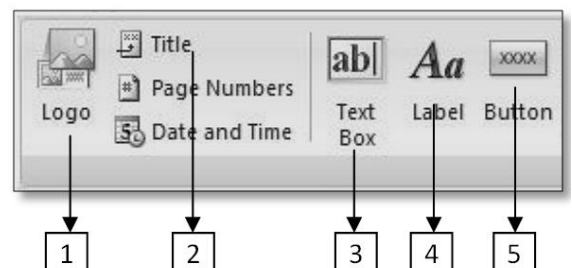
- A. membuat tombol pada form
- B. membuat judul sebuah form
- C. menambah pilihan baru
- D. membuat logo form

31. Fungsi icon yang ditunjukkan dengan angka 3 adalah ...

- A. menambahkan suatu keterangan dari form
- B. membuat judul sebuah form
- C. menambah pilihan baru
- D. membuat logo form

32. Fungsi icon yang ditunjukkan dengan angka 4 adalah ...

- A. menambahkan suatu keterangan dari form
- B. membuat judul sebuah form
- C. menambah pilihan baru
- D. membuat logo form



33. Fungsi icon yang ditunjukkan dengan angka 5 adalah ...

- A. membuat tombol pada form
- B. membuat judul sebuah form
- C. menambah pilihan baru
- D. membuat logo form

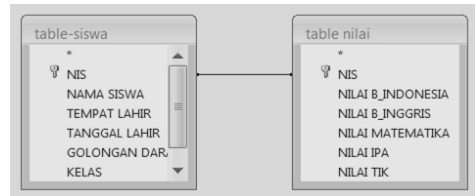
34. Tampilan menu pada gambar disamping merupakan contoh dari ...

- A. table
- B. form
- C. query
- D. report

Kode_Barang	Tanggal	Vendor	Nama_Barang	Harga_Beli Barang	Jumlah	Satuan	Harga_Jual Barang
M001	26/01/2012	Bp.Ahmad	Indomie Goreng	Rp40.000	15	Kardus	Rp50.000
M002	26/01/2012	Bp.Sodikin	Mie Sedap Kari Ayam	Rp40.000	5	Kardus	Rp50.000
R001	26/01/2012	Bp.Yahya	Djarum Super	Rp90.000	10	Slop	Rp100.000
B001	26/01/2012	Bu.Lia	Buku Sidu	Rp20.000	10	Pack	Rp22.500
				Rp190.000	40		Rp222.500

35. Gambar disamping merupakan tampilan dari proses ...

- A. table
- B. form
- C. query
- D. report



36. Icon dibawah ini yang menunjukkan icon Form Wizard adalah ...

- A.
- B.
- C.
- D.

37. Icon dibawah ini yang menunjukkan icon pivot table adalah ...

- A.
- B.
- C.
- D.

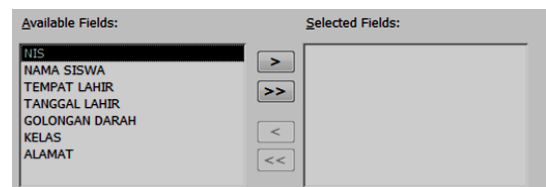
38. Icon yang harus dipilih untuk membuat tombol navigasi seperti gambar dibawah adalah ...



- A.
- B.
- C.
- D.

39. Icon yang harus dipilih untuk memindahkan semua data dari available fields ke selected fields adalah ...

- A. >
- B. >>
- C. <
- D. <<



40. Sebuah menu utama untuk penggabungan form-form yang telah dibuat pada Microsoft acces disebut ...

- A. first form
- B. switchboard
- C. database tools
- D. query wizard

((Selamat Mengerjakan))